



ศูนย์พัฒนาเด็กเล็กบ้าน _____
แบบทดสอบวัดทักษะด้านคณิตศาสตร์ ชั้นอนุบาล
คำชี้แจง: แบบทดสอบนี้ใช้วัดทักษะสำหรับเด็ก ชั้นอนุบาล1



ชื่อ _____ เลขที่ _____ ชั้น _____

คำสั่ง: ให้นักเรียนวงกลม ภาพคำตอบที่ถูกต้องที่สุด

 . จง ล้อมรอบรูปภาพที่มีขนาดใหญ่




 . จง ล้อมรอบรูปภาพต้นไม้ที่มีขนาดเล็ก



 .จง ล้อมรอบรูปภาพที่มีจำนวนมาก



 .จง ล้อมรอบรูปภาพจำนวนที่มีจำนวนน้อย



คำสั่ง: ให้นักเรียนวงกลม X ภาพคำตอบที่ถูกต้องที่สุด

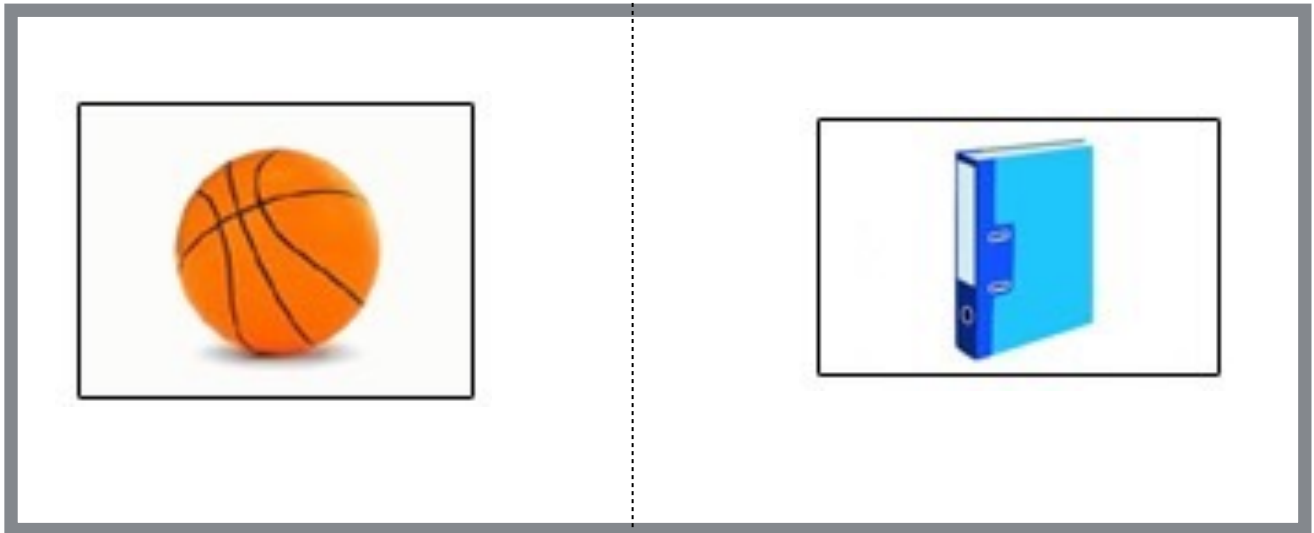
 .จง X ทับภาพรูปภาพทรงที่เหมือนกัน



 .จง X ทับภาพรูปภาพที่มีสีเหมือนกัน



 .จง ✕ ทับภาพรูปภาพทรงกลม

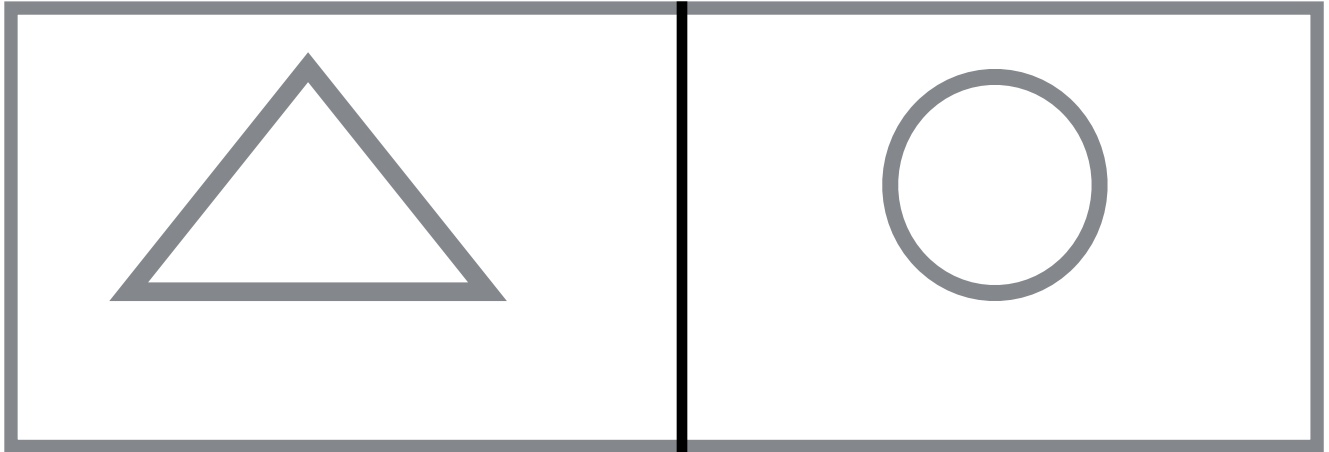



 .จง ✕ ทับภาพรูปภาพที่มีรูปทรงสี่เหลี่ยม

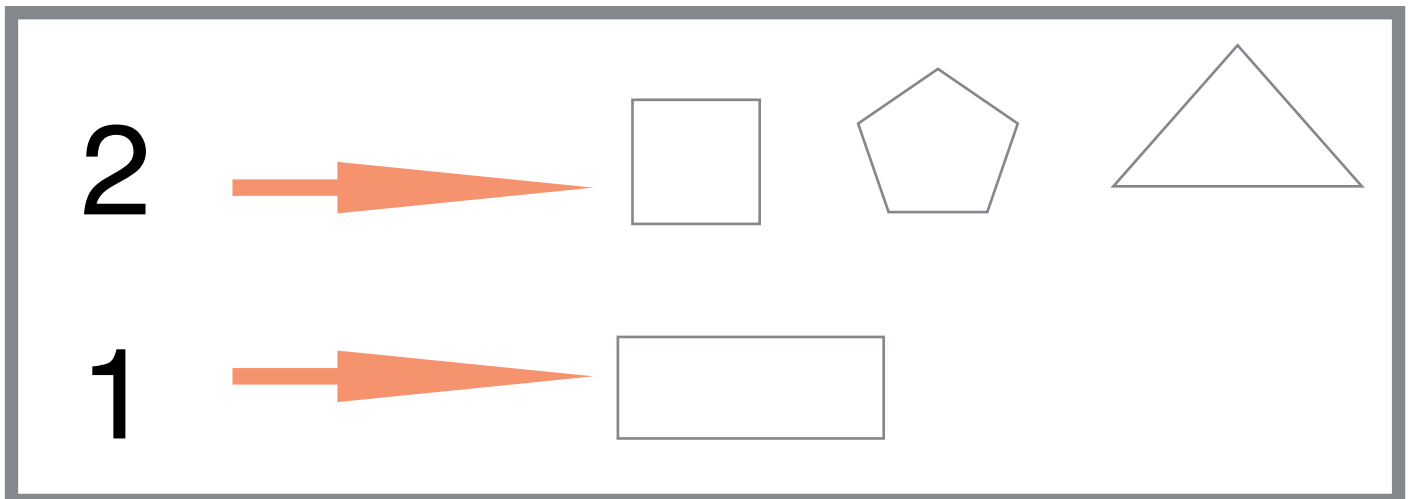


คำสั่ง: ให้นักเรียนระบายสีภาพคำตอบที่ถูกต้องที่สุด

 . จงระบายสีภาพรูปทรงสามเหลี่ยม



 . จงระบายสีภาพรูปทรงตามจำนวนที่กำหนดให้



สมาชิกในกลุ่ม

005, 017, 018, 021, 026,

028, 035, 038, 043, 044, 045

